
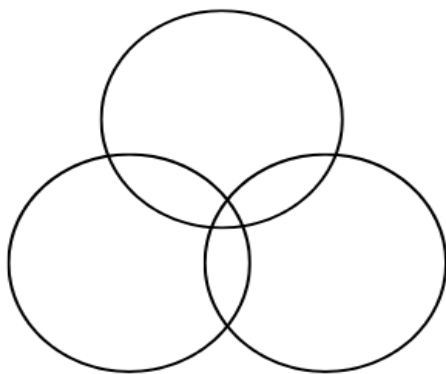


ATIVIDADE DE GEOGRAFIA

Estudante: _____ Data: ___/___/___
Professor (a): _____ Turma: _____
Escola: _____ 

1. O que são blocos econômicos?

2. Quais áreas apresentam avanços com a formação dos blocos econômicos? Preencha o diagrama abaixo.



3. Veja a tirinha abaixo com atenção.



Carlos Ruas. Fonte: < <https://bit.ly/3d9XLpg> >.

Uma característica dos blocos econômicos é

a) dificultar a entrada de produtos de países não membros.

b) impedir totalmente o comércio entre os países integrantes do bloco.

c) eliminar qualquer tipo de relação econômica entre os países membros.

d) promover o isolamento econômico dos países participantes.

4. A origem dos blocos econômicos remete ao contexto que sucedeu a Guerra Fria, quando a economia global ganhou uma nova fase de integração entre os países e uma nova ordem mundial se estabeleceu, o que gerou a globalização.

A globalização pode ser definida como

a) um processo de integração econômica, política, cultural e tecnológica entre países, intensificado pelos avanços nos meios de transporte e comunicação.

b) a separação total entre os países, com o aumento das barreiras comerciais e o isolamento econômico.

c) um fenômeno restrito apenas aos países desenvolvidos, sem impacto nas nações em desenvolvimento.

d) a diminuição das trocas comerciais internacionais e o enfraquecimento das relações entre os países.

5. Associe cada tipo de bloco econômico à característica correta.

1 - Zona de preferência tarifária.

2 - União política e monetária.

3 - Zona de livre comércio.

4 - União aduaneira.

5 - Mercado comum.

() Consiste na eliminação de tarifas comerciais entre os países membros, facilitando as trocas econômicas.

() Apresenta alto nível de integração, com livre circulação de pessoas, bens, capitais e informações.

() Integração em que apenas alguns produtos recebem vantagens tarifárias específicas.

() Possui livre comércio entre os países e uma tarifa externa comum para produtos de fora do bloco.

() Envolve integração econômica e política, com adoção de moeda única e políticas comuns entre os países.

6. Abaixo, escreva um bloco no qual o Brasil faz parte.

7. Associe os blocos econômicos às suas respectivas características:

- | | |
|-------------------|----------------------|
| 1. União Europeia | 2. USMCA (Nafta) |
| 3. Opep | 4. Apec |
| 5. MCCA | 6. Comunidade Andina |
| 7. Mercosul | 8. Tigres Asiáticos |
| 9. CEI | 10. SADC |

() Bloco formado por países produtores de petróleo, com atuação no controle da produção e dos preços no mercado mundial.

() Bloco europeu que promove a livre circulação de pessoas, bens e capitais, além da integração econômica entre seus membros.

() Bloco da América do Norte que tem como objetivo principal intensificar o comércio entre Estados Unidos, México e Canadá.

() Grupo de países asiáticos que se destacaram pelo rápido crescimento econômico e tecnológico.

() Bloco sul-americano que inclui o Brasil e promove a integração econômica e social entre seus membros.

() Bloco formado por países que integravam a antiga União Soviética, buscando inserção na economia global.

() Bloco da Ásia e do Pacífico que visa ampliar o comércio e o desenvolvimento econômico entre seus participantes.

() Bloco da América Central voltado à integração econômica entre países como Honduras e Guatemala.

() Bloco africano que busca promover o desenvolvimento, a paz e a segurança na região austral do continente.

() Bloco formado por países andinos que visa a integração econômica, social e política.

8. Atribua **V** para vantagens e **D** para desvantagens.

() Polarização das economias globais.

() Menor custo dos produtos.

() Redução da soberania nacional.

() Maior facilidade de circulação de pessoas, bens e informações.

() Risco de países com economia frágil prejudicarem os mais desenvolvidos.

() Eliminação de tarifas de exportação e importação.

() Enfraquecimento do multinacionalismo frente à economia regional.

() Integração entre economias, formando um sistema maior.

() Menor liberdade econômica das empresas para atuar em outros mercados.

() Aumento gradual do Produto Interno Bruto (PIB).

() Ajuda mútua entre os países membros.

() Criação de políticas comuns de desenvolvimento econômico e social.

9. Leia a tirinha com atenção.



<https://br.pinterest.com/sueleyc/mafalda/>

A tirinha evidencia um processo histórico que atingiu os países da América Latina, sobretudo na segunda metade do século XX. A alternativa que melhor explica esse processo é

a) a implementação de políticas socialistas autônomas, com fortalecimento da indústria nacional e redução da influência externa.

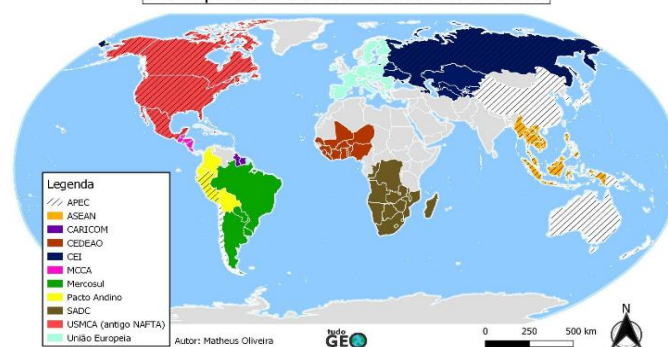
b) o isolamento econômico dos países latino-americanos, com fechamento total para o comércio internacional.

c) submissão dos países latino-americanos às políticas neoliberais, com perda de autonomia, aumento da dívida externa e atuação dependente das elites locais.

d) a formação de economias completamente independentes, sem interferência de elites locais ou instituições financeiras globais.

10. Analise a imagem abaixo.

Principais blocos econômicos do mundo



<https://coeduca.digital/conteudo/educacao-basica/video/blocos-economicos-e-suas-modalidades-geografia-ensino-medio>

Em qual continente está localizado cada um desses blocos?
