


## ATIVIDADE INTERDISCIPLINAR

Estudante: \_\_\_\_\_ Data: \_\_\_\_/\_\_\_\_/\_\_\_\_  
Professor (a): \_\_\_\_\_ Turma: \_\_\_\_\_  
Escola: \_\_\_\_\_ 

1. Um ano é composto por 12 meses. Eles sempre acontecem na mesma ordem. Complete a sequência com os meses que faltam:

JANEIRO


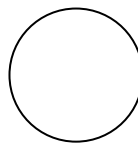

ABRIL

JULHO

SETEMBRO

DEZEMBRO

2. O tempo passa e nós mudamos. Numere de 1 a 3 a sucessão dos anos na vida de uma pessoa:



3. Relacione as imagens conforme o período de tempo.

