



ATIVIDADE DE MATEMÁTICA

Estudante: _____ Data: ____/____/____
Professor (a): _____ Turma: _____
Escola: _____ 

1. A idade de Bianca somada à idade de sua irmã é 17 anos. Qual decomposição representa esse número?

- a) $1 + 7$
- b) $10 + 7$
- c) $11 + 7$
- d) $100 + 7$

2. Observe a quantia que Hugo guardou.




Qual é o valor total?

3. Jonas observou alguns números que foram sorteados em um bingo.



a) Qual é o maior número?

b) Organize esses números em ordem crescente.



4. Observe a cozinha da casa de Nicole.

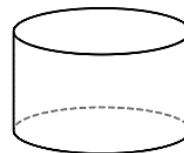


Onde está o bichinho de estimação de Nicole?

- a) Embaixo na mesa.
- b) Em cima da mesa.
- c) Em cima da geladeira.
- d) Dentro do microondas.

5. Brena está fazendo uma avaliação com 20 questões. Se ela já resolveu 12, quantas ainda faltam para finalizar?

6. Lorena estava estudando as figuras espaciais e gostou do cilindro.



Na padaria, ela quis comprar um bolo com esse formato. Faça um X no bolo que Lorena vai escolher.



7. Aninha vai fazer uma apresentação na escola e está aprendendo alguns passos.



Qual passo Aninha vai fazer no lugar do símbolo #? Circule a imagem correta.



8. Leozinho gosta de jogar bola e tem uma coleção com 18. Depois, seu pai lhe deu mais 5 bolas. Com quantas bolas Leozinho ficou agora?

- a) 22
- b) 23
- c) 24
- d) 25

9. Era noite de domingo, e Maitê brincava em seu quarto com suas bonecas, até que sua mãe apareceu na porta.



Em qual dia da semana começam as aulas de Maitê?

- a) Sábado.
- b) Domingo.
- c) Segunda-feira.
- d) Terça-feira.

10. Veja como dona Lídia organizou as flores para centros de mesa.



Quantas flores ela usou ao todo?