


PARQUE CENTRAL





RUA CASTELIANO


RUA DAS FLORES



RUA DAS GARÇAS



RUA DAS GARÇAS




RUA DAS PALMAS

CASA DA ANA



RUA DO SORRISO

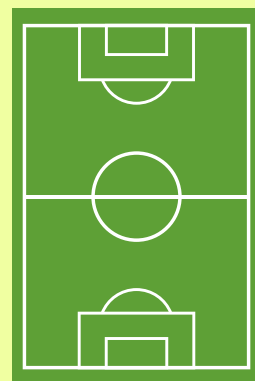
RUA ANA BELA



RUA DOS PARDAIS

RUA DOS PARDAIS

CASA DA BIA




CAMPO DE FUTEBOL

PARQUE VELHO



RUA CASTELIANO

RUA DOS ESTUDANTES



RUA FELIZ



RUA DO SORRISO




RUA DAS ROSAS

CASA DO PEDRO



AVENIDA VATICANO



HORTIFRUTE



PADARIA



PIZZARIA



LIVRARIA



ESCOLA



ATACADÃO



AÇOUGUE



DELEGACIA



SORVETERIA

JOGO DAS DIREÇÕES

COMO SE CHAMA A RUA
QUE FICA ENTRE A CASA
DA ANA E A PADARIA?



JOGO DAS DIREÇÕES

O QUE TEM DO LADO
ESQUERDO DA PADARIA
QUANDO VOCÊ ATRAVESSA
A RUA CASTELIANO?



JOGO DAS DIREÇÕES

O QUE FICA À ESQUERDA
DO CAMPO DE FUTEBOL?



JOGO DAS DIREÇÕES

COMO VOCÊ DESCREVERIA
A POSIÇÃO DA DELEGACIA
DE POLÍCIA?



JOGO DAS DIREÇÕES

O QUE ESTÁ ACIMA DA RUA
DOS ESTUDANTES?



JOGO DAS DIREÇÕES

AO SAIR DA PADARIA,
DOBRAR À ESQUERDA NA
RUA ANA BELA E SEGUIR
EM FRENTE ATÉ A RUA DO
SORRISO, O QUE VOCÊ
ENCONTRARA EM FRENTE?



JOGO DAS DIREÇÕES

O QUE EXISTE À DIREITA DA
LIVRARIA?



JOGO DAS DIREÇÕES

DESCREVA A POSIÇÃO DA
DELEGACIA EM RELAÇÃO
AO ATACADÃO.



JOGO DAS DIREÇÕES

O PREFEITO PRECISA
COLOCAR UMA PLACA DE
"STOP" NO CRUZAMENTO
DA RUA DAS ROSAS COM A
RUA CASTELANO. DIGA
ONDE FICARÁ ESSA PLACA.



JOGO DAS DIREÇÕES

SE VOCÊ ESTIVER NO
ATACADÃO E ANDAR UMA
RUA PARA CIMA, O QUE IRÁ
ENCONTRAR?



JOGO DAS DIREÇÕES

QUAL LUGAR FICA ACIMA
DO AÇOUGUE?



JOGO DAS DIREÇÕES

O QUE ETÁ LOCALIZADO
NA RUA DAS FLORES?



JOGO DAS DIREÇÕES

QUE RUA ESTÁ
LOCALIZADA ABAIXO DA
ESCOLA?



JOGO DAS DIREÇÕES

AO SAIR DA DELEGACIA,
VIRAR A ESQUERDA E
SEGUIR NA RUA DO
SORRISO, QUE PONTO VOCÊ
PASSARÁ PRIMEIRO PARA
CHEGAR NO AÇOUGUE?



JOGO DAS DIREÇÕES

SE VOCÊ ESTIVER NO
CAMPO DE FUTEBOL E
SEGUIR PELA DIREITA NA
RUA DO SORRISO ATÉ O
FINAL, O QUE
ENCONTRARÁ?



JOGO DAS DIREÇÕES

AO SAIR DE CASA, BIA
SEGUIU EM FRENTE ATÉ O
FIM DA RUA DOS PARDAIS.
EM QUE LOJA ELA
CHEGARÁ?



JOGO DAS DIREÇÕES

PEDRO SAIU DE CASA E
SEGUIU ATÉ O FINAL PELA
RUA DAS ROSAS. PARA
ONDE ELE FOI?



JOGO DAS DIREÇÕES

SAIA DA CASA DA ANA
SEGUINDO PELA RUA DAS
PALMAS, PARA CIMA, ATÉ A
RUA DAS FLORES. O QUE
VOCÊ ENCONTROU?

JOGO DAS DIREÇÕES

O QUE EXISTE À ESQUERDA
DA SORVETERIA?



JOGO DAS DIREÇÕES

RAVI ESTÁ NA RUA DOS
ESTUDANTES E PRECISA
CHEGAR ATÉ O LAGO
PERTO DO HORTIFRUTE.
DESCREVA O CAMINHO
QUE ELE DEVE
PROSSEGUIR.



JOGO DAS DIREÇÕES

ANA PRECISA COMPRAR
CARNE NO AÇOUGUE.
IDENTIFIQUE QUE
PERCURSO ELA DEVE
FAZER PARA CHEGAR ATÉ
LÁ.



JOGO DAS DIREÇÕES

QUE LUGAR FICA ABAIXO
DO PARQUE VELHO?



JOGO DAS DIREÇÕES

DIGA TODOS OS PONTOS
EM QUE ESTÃO
LOCALIZADOS NA RUA
CASTELIANO.



JOGO DAS DIREÇÕES

COMO VOCÊ DESCREVERIA
A POSIÇÃO DA ESCOLA?

