

ATIVIDADE DE GEOGRAFIA

Estudante: _____
 Professor (a): _____ Data: ____/____/____
 Escola: _____ Turma: _____

Tudo Sobre o Anjo

1. Como é denominado o local caracterizado por uma concentração de edifícios, uma grande movimentação de pessoas, presença marcante de lojas e veículos, e uma quantidade mínima de árvores?

- a) Campo.
- b) Natureza.
- c) Zona Rural.
- d) Zona Urbana.

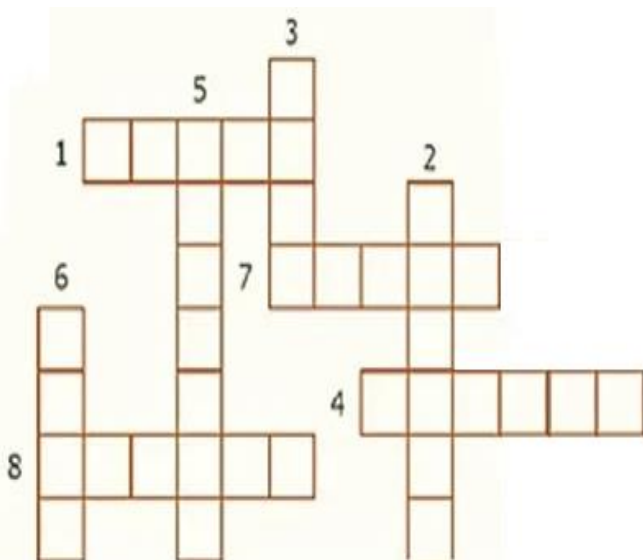
2. Observe a imagem e resolva as questões.



a) Quais desses produtos são preparados no campo?

b) Liste 5 alimentos consumidos por você e sua família que são produzidos no campo.

3. Complete a cruzadinha com os nomes de alguns produtos cultivados na zona rural.



4. O que é mais comum encontrar nas ruas das grandes cidades?

- a) Árvores.
- b) Carros e lojas.
- c) Montanhas.
- d) Rios.

5. Observe as imagens para responder às questões.

Imagem 1



Imagem 2




a) Que diferenças você consegue observar entre essas duas paisagens?

b) É possível concluir que a imagem 1 representa a paisagem do campo ou da cidade?

c) Com base nas imagens, cite elementos formados pela natureza e elementos criados pelo homem.

6. Observe a imagem para responder à questão.



https://br.images.search.yahoo.com/search/images?_ylt=AwrFatfa29RILU0QvGHZ6Qt.;_ylu=

As atividades produzidas na imagem acima são predominantemente realizadas no campo ou na cidade? Justifique.

7. Observe a imagem para responder à questão.



Apresente elementos que diferenciem a vida no campo da vida na cidade mencionados na tirinha.

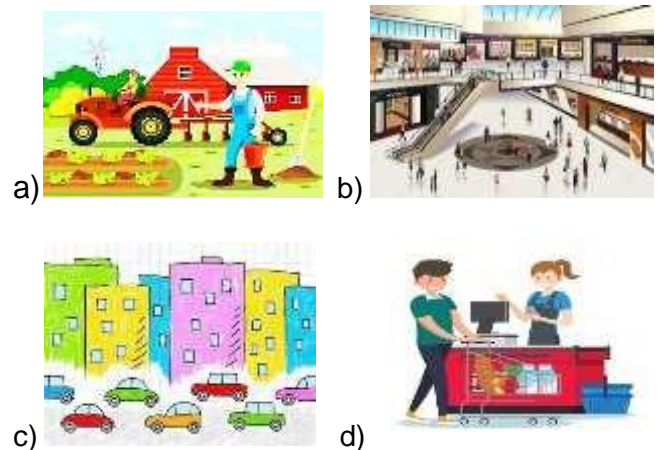
Vida no Campo	Vida na Cidade

08. Observe a imagem para responder à questão.



Que elementos mostrados nesta imagem é possível afirmar que este espaço é rural?

9. Marque a opção que apresenta uma atividade exercida no campo.



10. Observe as palavras abaixo.

**CAMPO CIDADE PLANTAÇÃO PRÉDIOS
MULTIDÃO LOJAS TRÂNSITO EDIFÍCIO**

Copie apenas as palavras que você associa ao espaço urbano.
